

Matemáticas. 3º Primaria Repaso Segundo Trimestre.

Nombre: _____

Multiplica y señala los factores y el producto

$2 \times 8 =$

$6 \times 6 =$

$3 \times 9 =$

$7 \times 9 =$

$6 \times 7 =$

$8 \times 7 =$

$5 \times 9 =$

$9 \times 9 =$

$4 \times 7 =$

$3 \times 7 =$

$9 \times 4 =$

$9 \times 8 =$

$8 \times 5 =$

$8 \times 2 =$

$4 \times 6 =$

$4 \times 3 =$

Nombre: _____

Completa la serie

1 C	2 C	3 C	4 C			7 C
100	200			500	600	

Álvaro camina todos los días 20 minutos. ¿Cuántos minutos caminará en una semana?

	mínutos	La Operación es	
Cada día	<input type="text"/>		
Días	<input type="text"/>		

Resultado

Suma 22

12	34	56	78	<input type="text"/>	<input type="text"/>	<input type="text"/>	<input type="text"/>	188
----	----	----	----	----------------------	----------------------	----------------------	----------------------	-----

Nombre: _____

*Un camión lleva 120 garrafas de 6 litros cada una.
¿Cuántos litros lleva en total?*

Garrafas

Litros

La Operación es

Resultado

Completa

245

→

2 C 4 D y 5 U

376

→

C D y U

409

→

C D y U

538

→

C D y U

901

→

C D y U

→

5 C 3 D y 2 U

→

7 C 2 D y 8 U

970

→

C D y U

→

4 C 0 D y 3 U

765

→

C D y U

Matemáticas. 3º Primaria Repaso Segundo Trimestre.

Nombre: _____

Escribe el número anterior y posterior

$$\boxed{} \leftarrow \boxed{198} \rightarrow \boxed{} \quad \boxed{} \leftarrow \boxed{815} \rightarrow \boxed{}$$

$$\boxed{} \leftarrow \boxed{392} \rightarrow \boxed{} \quad \boxed{} \leftarrow \boxed{544} \rightarrow \boxed{}$$

$$\boxed{} \leftarrow \boxed{630} \rightarrow \boxed{} \quad \boxed{} \leftarrow \boxed{546} \rightarrow \boxed{}$$

Multiplicaciones

$$\begin{array}{r} 328 \\ \times 61 \\ \hline \end{array}$$

$$\begin{array}{r} 506 \\ \times 46 \\ \hline \end{array}$$

$$\begin{array}{r} 699 \\ \times 58 \\ \hline \end{array}$$

$$\begin{array}{r} 707 \\ \times 29 \\ \hline \end{array}$$

Matemáticas. 3º Primaria Repaso Segundo Trimestre.

Nombre: _____

Completa la serie

	-5	-4	-3	-2	-2	-5	-4	
125	120							100

Escribe el signo mayor > o menor < según corresponda

458		498	126		106
286		268	329		345
290		299	656		758

Coloca y Multiplica

728×4	236×3
347×8	810×6
269×5	311×9

Nombre: _____*Sumas*

$$\begin{array}{r} 3218 \\ 4174 \\ + 1395 \\ \hline \end{array}$$

$$\begin{array}{r} 8219 \\ 3346 \\ + 3920 \\ \hline \end{array}$$

$$\begin{array}{r} 6047 \\ 1925 \\ + 1738 \\ \hline \end{array}$$

En mi casa hay cinco estanterías con 123 libros cada una. ¿Cuántos libros hay en total?

*Estanterías**Libros**La Operación es**Resultado*

Nombre: _____*Restas*

$$\begin{array}{r} 560 \\ - 127 \\ \hline \end{array}$$

$$\begin{array}{r} 374 \\ - 231 \\ \hline \end{array}$$

$$\begin{array}{r} 652 \\ - 198 \\ \hline \end{array}$$

$$\begin{array}{r} 835 \\ - 467 \\ \hline \end{array}$$

$$\begin{array}{r} 138 \\ - 129 \\ \hline \end{array}$$

$$\begin{array}{r} 651 \\ - 477 \\ \hline \end{array}$$

$$\begin{array}{r} 456 \\ - 179 \\ \hline \end{array}$$

$$\begin{array}{r} 546 \\ - 229 \\ \hline \end{array}$$

Completa la serie $\times 2$ $+ 1$ $- 2$ $- 5$ $\times 3$

5

12

Matemáticas. 3º Primaria Repaso Segundo Trimestre.

Nombre: _____

He comprado 7 estuches de lápices de colores, en cada estuche hay 24 lápices. ¿Cuántos lápices tengo en total?

Estuches

Lápices

La Operación es

Resultado

En mi colegio hay 4 clases de tercero. Si en cada clase hay 32 niños y niñas. ¿Cuántos niños y niñas hay en

Clases

Niños y niñas

La Operación es

Resultado

Matemáticas. 3º Primaria Repaso Segundo Trimestre.

Nombre: _____

Calcula

El doble de 3

El triple de 7

El triple de 5

El doble de 23

El doble de 6

El triple de 6

El triple de 4

El doble de 15

El doble de 10

El triple de 10

Calcula el número

El triple de un número es 18 ¿Cuál es ese número?

El doble de un número es 20 ¿Cuál es ese número?

$$34 - 12 =$$

$$5 \times 9 =$$

Matemáticas. 3º Primaria Repaso Segundo Trimestre.

Nombre: _____

Ana ha comprado dos paquetes de chicles de fresa, con 12 chicles cada uno y cuatro paquetes de 15 chicles de menta cada uno. ¿Cuántos chicles tiene en total?

Resultado

Si tengo 3 billetes de 5 euros y 8 monedas de 2 euros. ¿Cuánto dinero tengo en total?


Resultado

Matemáticas. 3º Primaria Repaso Segundo Trimestre.

Nombre: _____

Relaciona cada suma con su resta, como en el ejemplo

$26+13=39$



$39-13=26$

$32+21=$

$73-52=$

$24+64=$

$99-61=$

$52+21=$

$53-32=$

$38+61=$

$88-64=$

Escribe los números que faltan

3 2 8

$+5 \square 1$

1 3 4

$+5 1 \square$

2 1 3

$+ \square 3 \square$

8 6 9

6 4 6

3 4 5

2 1 4

$+ \square 1 2$

2 2 6

$+3 \square \square$

5 4 2

$+ \square \square \square$

4 2 6

5 8 7

8 5 6

Matemáticas. 3º Primaria Repaso Segundo Trimestre.

Nombre: _____

Divide y haz la prueba de la división

$$\begin{array}{r} 95 \overline{) 2} \\ 15 \quad 47 \end{array}$$

$$47 \times 2 = 94$$

$$94 + 1 = 95$$

1 /

$$\begin{array}{r} 185 \overline{) 3} \end{array}$$

$$\begin{array}{r} 649 \overline{) 8} \end{array}$$

$$\begin{array}{r} 326 \overline{) 7} \end{array}$$

$$12 : 6 =$$

$$15 : 3 =$$

Matemáticas. 3º Primaria Repaso Segundo Trimestre.

María reparte 25 caramelos entre 5 niños. ¿Cuántos caramelos le corresponden a cada uno?

Tengo 50 canicas para repartir en 6 bolsas. ¿Cuántas canicas puedo meter en cada bolsa? ¿Me sobra alguna canica?

Nombre: _____*Coloca los números y haz las operaciones*

$273 + 142 + 24 =$

345×321

$189 : 12$

$95678 : 4$

Multiplica

$8 \times 10 =$

$7 \times 10 =$

$9 \times 6 =$

$7 \times 5 =$

$5 \times 8 =$

$6 \times 7 =$

Matemáticas. 3º Primaria Repaso Segundo Trimestre.

Nombre: _____

Calcula

La mitad de 18

La mitad de 20

Un tercio de 15

La mitad de 30

Un tercio de 21

Un tercio de 36

La mitad de 6

La mitad de 40

Un tercio 27

La mitad de 12

Calcula el número

4 es la mitad de un número. ¿Cuál es ese número?

6 Es la mitad de un número ¿Cuál es ese número?

$$34 - 22 =$$

$$15 \times 9 =$$

Matemáticas. 3º Primaria Repaso Segundo Trimestre.

Nombre: _____

Tengo 232 peces y los quiero repartir en dos peceras.
¿Cuántos peces tendré que poner en cada pecera?

Resultado

Escribe los números y relaciónalos

Mil doscientos tres

$$1DM+2UM+8C+2D+0U$$

Cuarenta mil ciento
dos

$$5DM+3UM+3C+1D+2U$$

Cincuenta y tres mil
trescientos doce

$$1UM+2C+0D+3U$$

Cuatro mil cuarenta
y nueve

$$4DM+0UM+1C+0D+2U$$

Doce mil ochocientos
veinte

$$4UM+0C+4D+9U$$

Nombre: _____

En una clase hay 24 niños y niñas. Si la mitad de ellos son morenos y los demás rubios. ¿cuántos son rubios y cuántos son morenos?

Resultado

En una granja hay 6 perros, el número de gatos es el doble que el de perros. Y el número de patos es la mitad que el número de perros y gatos juntos. ¿Cuántos gatos hay? ¿Cuántos patos hay?

Resultado

Matemáticas. 3º Primaria Repaso Segundo Trimestre.

Nombre: _____

Divide y haz la prueba de la división

$$\begin{array}{r} 95 \quad | \quad 2 \\ 15 \quad 47 \end{array}$$

$$47 \times 2 = 94$$

$$94 + 1 = 95$$

1 /

$$4953 \quad | \quad 3$$

$$84359 \quad | \quad 8$$

$$65931 \quad | \quad 7$$

$$121 : 6 =$$

$$18 : 3 =$$

Nombre: _____

Si tengo 346 canicas y las quiero repartir entre mis 5 amigos. ¿Cuántas canicas le corresponden a cada uno?

Resultado

Un señor tiene 658 euros y los quiere repartir entre sus tres hijos. ¿Cuántos euros le tiene que dar a cada uno?

Resultado

Matemáticas. 3º Primaria Repaso Segundo Trimestre.

Nombre: _____

Sumas

3054

3342

+ 1087

8200

3126

+ 2880

6041

3201

+ 2253

5432

5998

+ 7560

Un barco ha pescado 234 atunes, otro barco pesca 46 atunes menos que el primero. ¿Cuántos atunes han pescado en total? Luego tienen que repartir los atunes en 5 tiendas. ¿Cuántos atunes le corresponde a cada tienda?

Resultado

Matemáticas. 3º Primaria Repaso Segundo Trimestre.

Nombre: _____

Completa las frases

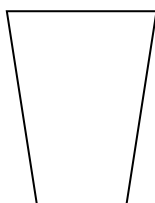
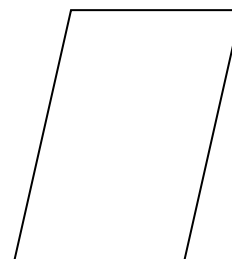
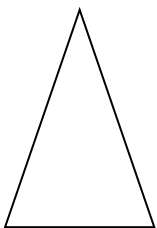
Un polígono de 4 lados se llama

Un polígono de 5 lados se llama

Un polígono de 6 lados se llama

Un polígono de 3 lados se llama

Señala los lados, vértices y ángulos de las siguientes figuras



Matemáticas. 3º Primaria Repaso Segundo Trimestre.

Nombre: _____

Completa las frases

Un triángulo equilátero tiene

Un triángulo isósceles tiene

Un triángulo escaleno tiene

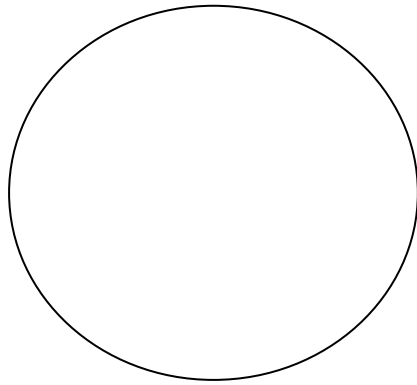
Dibuja un triángulo equilátero, uno isósceles y uno escaleno.

Matemáticas. 3º Primaria Repaso Segundo Trimestre.

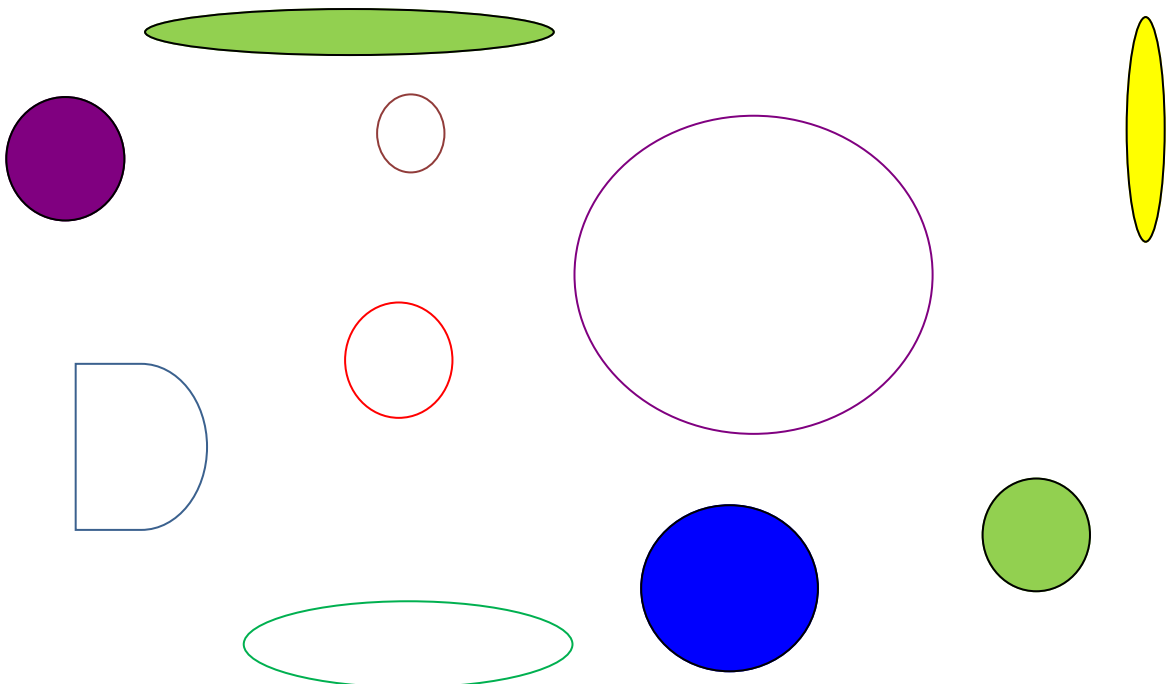
Nombre: _____

Escribe el nombre de cada parte de la circunferencia donde corresponda

Centro- Radio Diámetro



¿Qué figuras son circunferencias y cuales círculos?



Matemáticas. 3º Primaria Repaso Segundo Trimestre.

Nombre: _____

Divide y haz la prueba de la división

$$\begin{array}{r} 9 \quad 5 \quad | \quad 2 \\ 1 \quad 5 \quad 4 \quad 7 \end{array}$$

$$47 \times 2 = 94$$

$$94 + 1 = 95$$

$$1 \diagdown$$

$$6 \quad 5 \quad 0 \quad 9 \quad 3 \quad | \quad 1 \quad 2$$

$$9 \quad 5 \quad 6 \quad 3 \quad 2 \quad | \quad 4 \quad 3$$

$$6 \quad 5 \quad 9 \quad 3 \quad 1 \quad | \quad 3 \quad 2$$

Matemáticas. 3º Primaria Repaso Segundo Trimestre.

Nombre: _____

Tengo 3 paquetes con 18 piruletas cada uno y 5 bolsas de 24 caramelos cada una. Si quiero repartir las piruletas y los caramelos entre mis 12 amigos, ¿Cuántas piruletas y caramelos podré dar a cada uno?

Resultado

Lucía tiene dos paquetes de 12 cromos cada uno, y tres paquetes con 23 pegatinas cada uno. Si quiere repartir los cromos y las pegatinas en 5 álbumes. ¿Cuántos cromos y pegatinas pondrá en cada uno?

Resultado

Matemáticas. 3º Primaria Repaso Segundo Trimestre.

Nombre: _____

Escribe el valor de la cifra 3 en cada caso

3871 → _____ unidades

5432 → _____ unidades

7003 → _____ unidades

5342 → _____ unidades

1342 → _____ unidades

1293 → _____ unidades

Relaciona cada suma con su resta, como en el ejemplo

$13+13=26$ → $26-13=13$

$48+12=$

$96-24=$

$65+15=$

$50-12=$

$72+24=$

$80-30=$

$30+50=$

$70-15=$

Rodea los números que tienen 5 centenas

543 2530 315 435 3542 4500
5240 125 652 540 5130
351 495 345 5035
512 6353 2035 549 542

Nombre: _____

Escribe los números que faltan

$$\begin{array}{r} 4 \quad 5 \quad 6 \\ +2 \quad \square \quad 3 \end{array}$$

$$\begin{array}{r} 4 \quad 5 \quad 6 \\ +5 \quad 6 \quad \square \end{array}$$

$$\begin{array}{r} 4 \quad 2 \quad 0 \\ + \square \quad 5 \quad \square \end{array}$$

6 8 9

10 1 8

8 7 6

$$\begin{array}{r} 5 \quad 1 \quad 2 \\ + \square \quad 3 \quad 4 \end{array}$$

$$\begin{array}{r} 1 \quad 3 \quad 2 \\ +3 \quad \square \quad \square \end{array}$$

$$\begin{array}{r} 6 \quad 2 \quad 1 \\ + \square \quad \square \quad \square \end{array}$$

6 4 6

4 9 6

7 6 5

Realiza las divisiones

$$65408 : 18$$

$$59021 : 34$$

$$36401 : 22$$

Nombre: _____*Coloca los números y suma*

$2021 + 312 + 240 =$

$31415 - 1094 =$

1089×3452

$26278 : 62$

Multiplica

$6 \times 10 =$

$7 \times 20 =$

$3 \times 9 =$

$9 \times 7 =$

$8 \times 5 =$

$6 \times 9 =$

Matemáticas. 3º Primaria Repaso Segundo Trimestre.

Nombre: _____

En una bandada de golondrinas vuelan 385 golondrinas. En otra bandada vuelan 164 golondrinas menos. ¿Cuántas vuelan en la segunda bandada?

Resultado

En el vagón del metro hay 236 asientos. En la primera parada suben 58 personas. En la segunda se bajan 39 y suben 45. ¿Cuántos asientos quedan libres?

Resultado

Matemáticas. 3º Primaria Repaso Segundo Trimestre.

Nombre: _____

Divide y haz la prueba de la división

$$\begin{array}{r} 95 \quad | \quad 2 \\ 15 \quad 47 \end{array}$$

$$47 \times 2 = 94$$

$$94 + 1 = 95$$

$$1 \quad /$$

$$54705 \quad | \quad 32$$

$$82046 \quad | \quad 45$$

$$29137 \quad | \quad 29$$